

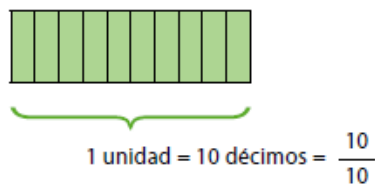
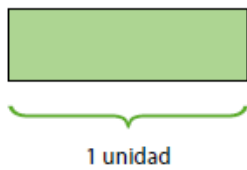
Ficha virtual 4° básico N°11
“Decimales”

Nombre: _____ Curso: _____ Fecha: _____

Objetivo de aprendizaje: Describir y representar decimales (décimos y centésimos); representándolos en forma concreta, pictórica y simbólica, de manera manual y/o con software educativo, comparándolos y ordenándolos hasta la centésima (OA 11)

Actividad 1:

Observa las siguientes imágenes:



La unidad se fracciona en 10 partes iguales y cada parte se lee un **décimo**.



¿Cuántos décimos están representados?

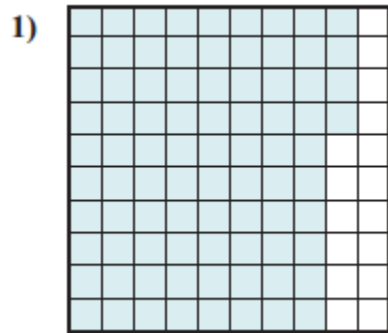
Completa el cuadro considerando la información anterior y guíate por el ejemplo.



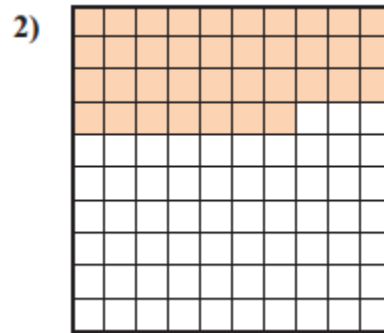
Representación gráfica	En palabras	Fracción
	tres décimos	$\frac{3}{10}$
 décimos	$\frac{\square}{10}$
 décimos	$\frac{\square}{10}$
 décimos	$\frac{\square}{10}$
 décimos	$\frac{\square}{10}$




Actividad 2: Encierre en un círculo o marque con rojo, el decimal que corresponde a cada imagen:



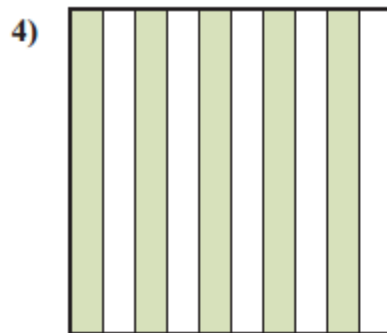
- A. 0,84
- B. 0,0084
- C. 0,084
- D. 84,00



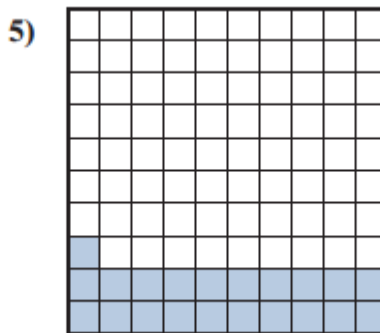
- A. 0,037
- B. 0,37
- C. 0,0037
- D. 37,00



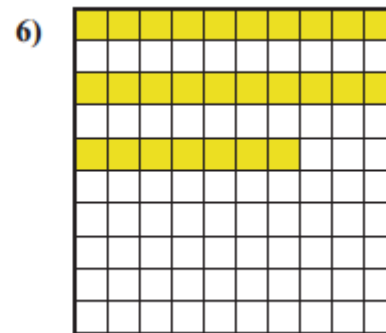
- A. 0,06
- B. 60,00
- C. 0,6
- D. 6,0



- A. 0,5
- B. 5,0
- C. 0,05
- D. 50,00



- A. 0,021
- B. 21,00
- C. 0,0021
- D. 0,21



- A. 0,27
- B. 27
- C. 0,0027
- D. 0,027